

100 分	人	90-99 分	人	80-89 分	人	70-79 分	人	60-69 分	人	60 分以下	人
-------	---	---------	---	---------	---	---------	---	---------	---	--------	---

一、填填看(一格 1 分，共 28 分)

(1) 一盒磅蛋糕有 10 塊。小武吃了 2 塊，是吃了  $\frac{2}{10}$  盒，崙崙吃了  $\frac{3}{10}$  盒，是吃了  $\frac{3}{10}$  個，剩下  $\frac{5}{10}$  都給阿隆，阿隆吃了  $\frac{5}{10}$  盒蛋糕。

(2) 1016 毫升 = ( ) 公升 ( ) 毫升

(3) 6 公升 3 毫升 = ( ) 毫升

(4)  $\frac{7}{12} \rightarrow ( ) \rightarrow \frac{5}{12} \rightarrow ( ) \rightarrow ( ) \rightarrow \frac{2}{12}$

(5) 填入公升或毫升

- ① 妹妹要喝 5 ( ) 的感冒藥水
- ② 姐姐愛喝一杯 700 ( ) 的奶茶
- ③ 我買了一罐 2 ( ) 的家庭號鮮奶

(6) 一個披薩平均分成 8 片。

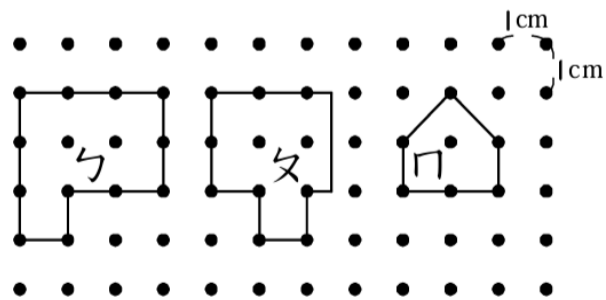
①  $\frac{5}{8}$  個披薩的「8」是什麼意思？  
( )

②  $\frac{5}{8}$  個披薩的「5」是什麼意思？  
( )

(7) 下面各角，是銳角打✓，是鈍角打○。



(8) 下面各圖形面積是幾平方公分？



□: ( ) cm<sup>2</sup>    ㄨ: ( ) cm<sup>2</sup>    ㄑ: ( ) cm<sup>2</sup>

(9) 下面算式答案等於 1 的，在□裡畫△，答案等於被除數的，在□裡畫○。

- ① □ 8÷8      ② □ 38÷1      ③ □ 42÷6
- ④ □ 19÷1    ⑤ □ 50÷8      ⑥ □ 10÷10

二、用直式算出答案(一題 2 分，共 8 分)

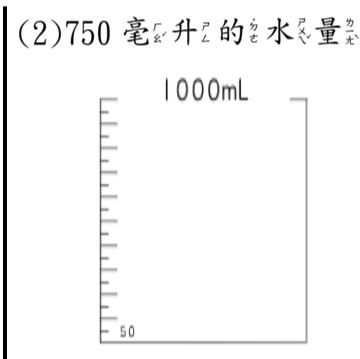
(1) 17÷3=( )...( )      (2) 54÷9=( )...( )

(3) 5 公升 42 毫升 + 226 毫升  
= ( ) 公升 ( ) 毫升

(4) 6 公升 543 毫升 - 3 公升 21 毫升  
= ( ) 公升 ( ) 毫升

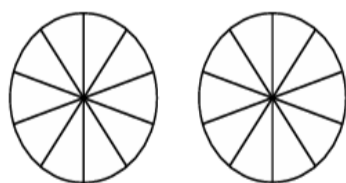
三、畫畫看(一個答案 1 分，共 8 分)

(1) 以黑線為角的一邊，黑點為頂點，畫出一個直角。




(3) 塗一塗再比比看，在( )裡填入 >、< 或 =

① 一個餅切 10 塊




4 塊 ( )  $\frac{4}{10}$  個餅

② 一盒有 9 塊




1 盒 ( )  $\frac{5}{9}$  盒

四、對的畫○，錯的打×(一題 1 分，共 4 分)



( ) 1. 左圖是一個正方形。

( ) 2. 正方形和長方形都有 4 個直角。



( ) 3. 瓢蟲的面積不到 9 cm<sup>2</sup>。

( ) 4. 蝴蝶的面積比 6 cm<sup>2</sup> 大。

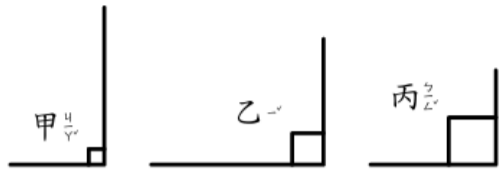
五、選擇題(一題2分，共10分)

( ) 1. 有一個奇數 6■，已知  $6■ > 62$ ，■

內可填入的數字有幾種可能？

- ① 2   ② 4   ③ 5   ④ 7

( ) 2. 比比看，哪個角最大？



- ① 甲   ② 乙   ③ 丙   ④ 一樣大

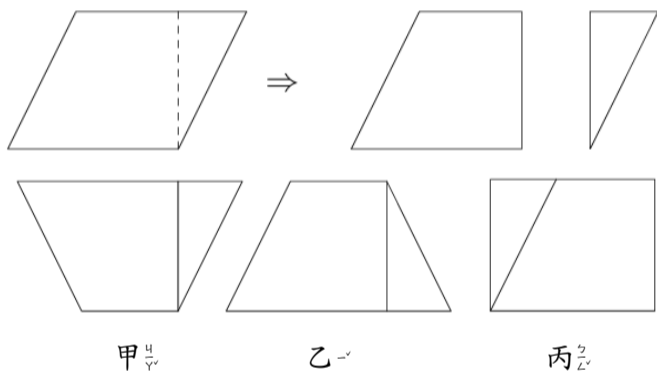
( ) 3. 有一箱橘子，6個裝一袋，盡量分完，最後不可能剩下幾顆橘子？

- ① 6   ② 2   ③ 4   ④ 0

( ) 4. 有一個長方形，它的3條邊長分別為10公分、10公分、6公分，還有一邊的邊長是幾公分？

- ① 10公分   ② 12公分   ③ 6公分   ④ 3公分

( ) 5. 小武將以下圖卡沿虛線剪成兩塊後，分別拼成甲、乙、丙三個圖卡。

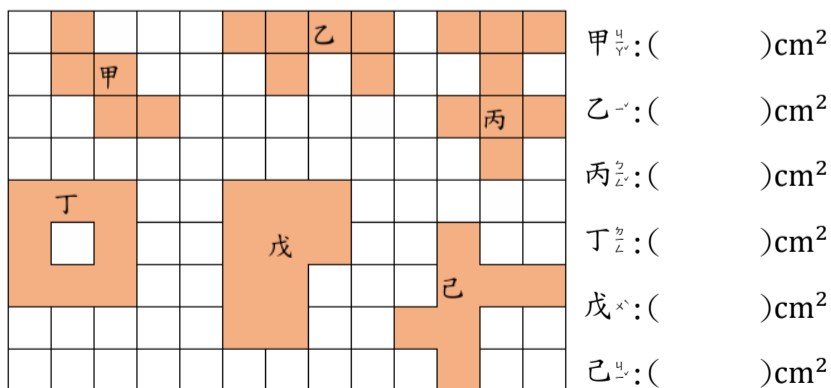


請問哪個圖卡的面積最大？

- ① 甲   ② 乙   ③ 丙   ④ 一樣大

六、看圖回答問題(一個答案2分，共24分)

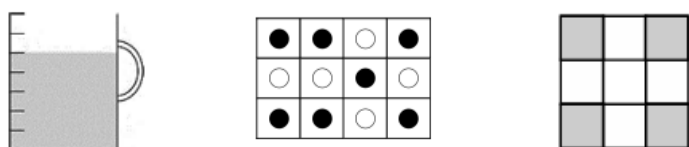
(1) 下面每個方格的邊長都是1公分，請寫出各圖形的面積是多少平方公分？




- 甲: ( )  $\text{cm}^2$   
 乙: ( )  $\text{cm}^2$   
 丙: ( )  $\text{cm}^2$   
 丁: ( )  $\text{cm}^2$   
 戊: ( )  $\text{cm}^2$   
 己: ( )  $\text{cm}^2$

(2) 塗色部分分是圖形幾分之幾？


- ① ( )   ② ( )   ③ ( )



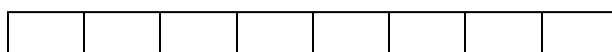
(3) 一條緞帶長1公尺



A



B



① A 緞帶和 ( ) 個  $\frac{1}{9}$  公尺一樣長

② B 緞帶和 ( ) 個  $\frac{1}{9}$  公尺一樣長是 ( ) 公尺

七、應用題(一題3分，共18分)

(1) 一瓶西瓜汁 2 公升，一瓶檸檬汁 1460 毫升，兩瓶相差多少毫升？

(2) 超商茶葉蛋特價，一顆只要 8 元，崙崙帶了 50 元，最多可以買幾顆茶葉蛋？

(3) 阿隆有 36 個公仔，每個盒子內可以裝 5 個公仔，他最少需要幾個盒子，才能把全部公仔裝起來？

(4) 飲料店上午煮了 2500 毫升的冬瓜茶，下午比上午多煮了 1 公升 240 毫升，下午煮了幾公升幾毫升的紅茶？

(5) 妹妹的蒐集簿一頁可以貼滿 6 張貼紙，今天她買了 32 張貼紙，可以貼滿幾頁？

(6) 23 個學生按照座號分成 4 組，直到每人都有組別，哪一組會只有 5 個人？

第一組	第二組	第三組	第四組
1 號	2 號	3 號	4 號
5 號	6 號	7 號	8 號
⋮	⋮	⋮	⋮

第一組	第二組	第三組	第四組
1 號	2 號	3 號	4 號
5 號	6 號	7 號	8 號
⋮	⋮	⋮	⋮